





1. Korzystając z mapy wypełnij luki w zdaniach.

Po drugiej wojnie światowej zmieniły się granice  Polski.

Na północy _____ stał się  _____.

Do  Polski przyłączono P _____, W _____ i M _____.

Zachodnia _____

 przebiega wzdłuż _____
 i _____

Wschodnia _____

 biegnie wzdłuż _____
 środkowego _____

Polska odzyskała część ziem zachodnich z miastami

1 _____
 2 _____
 i 3 _____


Na wschodzie Polska utraciła obszary z miastami

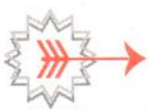
4 _____
 i 5 _____

Na południu Polska graniczy z _____



2. Uzupełnij zdanie wyrazami z ramki.

Zgodnie z postanowieniami konferencji w Poczdamie  **N** ludność niemiecka z ziem zachodnich i północnych miała _____ do N _____.



wyjechać **Niemiec**



3. Pokoloruj jednym kolorem ziemie utracone na wschodzie, innym kolorem ziemie odzyskane na zachodzie.